



UNIVERSIDAD
DE MÁLAGA

**PRUEBAS SELECTIVAS
OFERTA PÚBLICA**

Téc. Aux. Instalaciones Deportivas

Resolución 26/06/2019

**FASE OPOSICIÓN
SEGUNDO EJERCICIO**

19 de enero de 2020

SUPUESTO PRÁCTICO

El próximo fin de semana se desarrollan en las instalaciones del Complejo Deportivo de la Universidad de Málaga diversas competiciones deportivas de las que habitualmente se organizan.

Los Técnicos Auxiliares de nuestras Instalaciones Deportivas deben realizar diferentes labores previas a la disputa de las mismas, como la preparación de las canchas de juego y los diferentes materiales necesarios.

APARTADO Nº 1 (La puntuación máxima de este apartado será de 10 puntos)

En las siguientes imágenes os mostramos una serie de materiales deportivos de los que disponemos en las instalaciones.






Size 5



Dimensiones interiores: 2,00 x 3,00 m.



Longitud: 4,00 m.





Dimensiones interiores: 2,00 x 6,00 m.

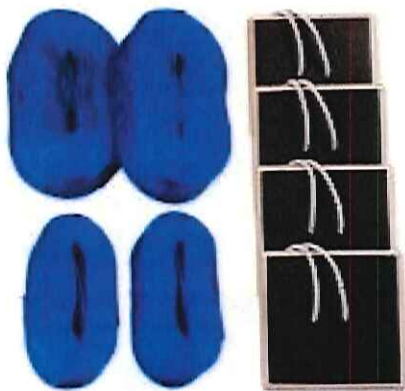





Altura 1,07 m.



1,00 m. de altura.



Cintas: ancho 5 cm,
longitud: 2 de 8 m. y 2 de 16 m.



El Técnico Especialista responsable de la organización de las competiciones de este fin de semana nos ha pasado un listado de material que es necesario para el correcto desarrollo de las mismas.

En función de los materiales anteriormente expuestos, le debemos indicar si disponemos de ellos o no.

| | | | | | |
|------|---|----|-----|----|-----|
| 1.- | Balón de fútbol sala. | a) | Si. | b) | No. |
| 2.- | Balón de baloncesto. | a) | Si. | b) | No. |
| 3.- | Obstáculo pruebas de obstáculo de atletismo. | a) | Si. | b) | No. |
| 4.- | Red de baloncesto. | a) | Si. | b) | No. |
| 5.- | Saltómetros para salto de altura. | a) | Si. | b) | No. |
| 6.- | Listón para salto de pértiga. | a) | Si. | b) | No. |
| 7.- | Balón de balonmano. | a) | Si. | b) | No. |
| 8.- | Balón de fútbol 7. | a) | Si. | b) | No. |
| 9.- | Postes con bandera de rugby. | a) | Si. | b) | No. |
| 10.- | Indicadores de faltas jugadores de baloncesto. | a) | Si. | b) | No. |
| 11.- | Portería de balonmano. | a) | Si. | b) | No. |
| 12.- | Testigo prueba de relevos atletismo. | a) | Si. | b) | No. |
| 13.- | Pelotas de tenis. | a) | Si. | b) | No. |
| 14.- | Indicador de posesión de baloncesto. | a) | Si. | b) | No. |
| 15.- | Balón de Rugby. | a) | Si. | b) | No. |
| 16.- | Tabla de batida para prueba de salto de longitud. | a) | Si. | b) | No. |
| 17.- | Portería de futbol 11. | a) | Si. | b) | No. |
| 18.- | Medidor de presión de balones (manómetro). | a) | Si. | b) | No. |
| 19.- | Postes para la red de tenis. | a) | Si. | b) | No. |
| 20.- | Cinta delimitadora campo de vóley playa. | a) | Si. | b) | No. |

La primera columna nos indica el número de pregunta al que corresponde en la hoja de respuestas. Si el material que nos solicita se encuentra entre los que os mostramos en las imágenes, la respuesta correcta es la a, si no se encuentra entre los mostrados en las imágenes la respuesta correcta es la b.

APARTADO Nº 2 (La puntuación máxima de este apartado será de 10 puntos)

Durante el fin de semana, se van a disputar partidos de Rugby.

Los Técnicos Auxiliares de Instalaciones Deportivas son los encargados del marcaje de las líneas del área de juego y colocación de los postes con bandera, según las leyes del juego de Rugby.

La imagen de la página siguiente representa como se encuentra marcada el área de juego del campo de Rugby de la Universidad de Málaga, así como la posición de los 14 postes con bandera, representados por los puntos rojos.

En la imagen puede haber errores en el marcaje de las líneas y en la colocación de los postes con bandera que habrá que subsanar.


Conteste si están o no correctamente marcadas las siguientes líneas:

| | | | | | |
|------|--|----|-----|----|-----|
| 21.- | La línea de mitad de cancha. | a) | Si. | b) | No. |
| 22.- | Las líneas discontinuas que están a cinco metros de cada línea de goal y paralelas a las mismas. | a) | Si. | b) | No. |
| 23.- | Las líneas discontinuas que están a 15 metros de cada línea de touch y son paralelas a las mismas. | a) | Si. | b) | No. |
| 24.- | Las líneas de touch. | a) | Si. | b) | No. |
| 25.- | Las líneas de 22 metros. | a) | Si. | b) | No. |
| 26.- | Las líneas de 10 metros. | a) | Si. | b) | No. |
| 27.- | Las líneas de touch-in-goal. | a) | Si. | b) | No. |
| 28.- | Las líneas discontinuas que están a 5 metros de cada línea de touch y son paralelas a las mismas. | a) | Si. | b) | No. |

Conteste si están o no correctamente colocados los siguientes postes con bandera, representados en la imagen por los puntos rojos:

| | | | | | |
|------|--|----|-----|----|-----|
| 29.- | Los ubicados alineados con las líneas de 10 metros, 2 metros afuera de las líneas de touch. | a) | Si. | b) | No. |
| 30.- | Los ubicados alineados con la línea de mitad de cancha, 2 metros afuera de las líneas de touch | a) | Si. | b) | No. |

La primera columna nos indica el número de la pregunta al que corresponde en la hoja de respuestas. Si están correctamente marcadas o colocados la respuesta correcta es la a, si no lo están la respuesta correcta es la b.



APARTADO Nº 3 (La puntuación máxima de este apartado será de 10 puntos)

Durante el fin de semana, se van a disputar partidos de Voleibol femenino absoluto. Los Técnicos Auxiliares de Instalaciones Deportivas son los encargados de preparar la instalación conforme a lo establecido por las Normas de Competición de la Federación Nacional y Autonómica.

En las siguientes fotografías se muestra como se ha realizado la preparación de la cancha de juego, colocación de los postes, la red, plataforma de jueces, banquillos, material necesario, etc.



Imagen 1

Observando la imagen 1, responda las siguientes preguntas.

| | | | | | |
|------|--|----|-----|----|-----|
| 31.- | ¿Está la red bien tensada y correctamente sujeta al poste? | a) | Sí. | b) | No. |
| 32.- | ¿Es correcta la ubicación de la mesa de anotadores y la plataforma del primer árbitro? | a) | Sí. | b) | No. |
| 33.- | ¿Es correcta la ubicación de los banquillos de los equipos? | a) | Sí. | b) | No. |

La primera columna nos indica el número de la pregunta al que corresponde en la hoja de respuestas. Si la respuesta es sí marque la opción a, si la respuesta es no marque la opción b.



Imagen 2

Observando la imagen 2, responda las siguientes preguntas.

| | | | |
|------|--|--------|--------|
| 34.- | ¿Es correcta la altura a la que se ha colocado la red? | a) Sí. | b) No. |
| 35.- | ¿Es correcta la colocación de las antenas? | a) Sí. | b) No. |
| 36.- | ¿Son los postes de la medida reglamentaria? | a) Sí. | b) No. |

La primera columna nos indica el número de la pregunta al que corresponde en la hoja de respuestas. Si la respuesta es sí marque la opción a, si la respuesta es no marque la opción b.




Imagen 3

Observando la imagen 3, responda las siguientes preguntas.

| | | | | | |
|------|--|----|-----|----|-----|
| 37.- | ¿Es correcto el balón de la mesa para la disputa del partido? | a) | Sí. | b) | No. |
| 38.- | ¿Es recomendable el medidor de presión de aire para los balones como material de la instalación? | a) | Sí. | b) | No. |
| 39 | ¿Son correctos los juegos de tablillas para cambios de jugadores que se observan en la mesa? | a) | Sí. | b) | No. |
| 40.- | ¿Es obligatorio disponer de un marcador manual, en ausencia de marcador automático? | a) | Sí. | b) | No. |

La primera columna nos indica el número de la pregunta al que corresponde en la hoja de respuestas. Si la respuesta es sí marque la opción a, si la respuesta es no marque la opción b.